




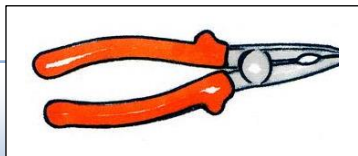


Document A : Des dents pour quoi faire ?

« Un collectionneur fait don au muséum de 3 mâchoires de requins. Malheureusement les étiquettes de leurs noms ont été mélangées. A vous de mener l'investigation pour retrouver à qui appartient ces mâchoires. »

CONSIGNES : Observe attentivement les dents et mâchoires. Puis écris une description de celles-ci dans le tableau. Enfin, découpe et colle les outils qui ressemblent le plus aux mâchoires.

Requin	dents	Description	Outil	
		n°1		
		n°2		
		n°3		



<p>Requin mako</p>	<p>n° ..</p>	<p>Illustration R.mako</p>
<p>Thons Requins</p> <div style="border: 1px solid black; padding: 5px; margin-top: 10px;"> <p>Colle ici la photo de la dent</p> </div>		

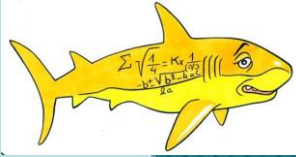
<p>Requin grisé</p>	<p>n° ..</p>	<p>Illustration R.grisé</p>
<p>Poissons (Hareng...) Raies Petites requins</p> <div style="border: 1px solid black; padding: 5px; margin-top: 10px;"> <p>Colle ici la photo de la dent</p> </div>		

<p>Requin zèbre</p>	<p>n° ..</p>	<p>Illustration R.Zèbre</p>
<p>Mollusques Crevettes – Crabes Petits Poissons</p> <div style="border: 1px solid black; padding: 5px; margin-top: 10px;"> <p>Colle ici la photo de la dent</p> </div>		

REQUINS



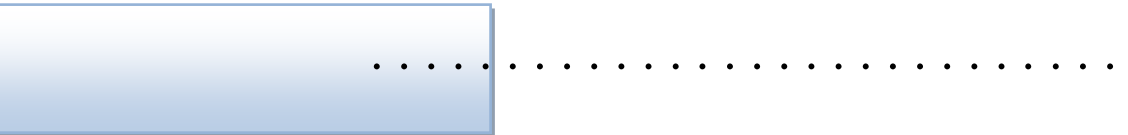
.....

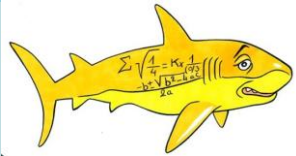


Document C₁ : Requin 1




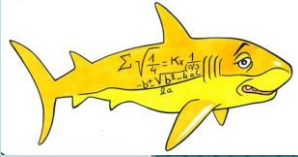
REQUINS





Document C₂ : Requin 2






Document C₃ : Requin 3





Document D : Réseau trophique



.....

